



भाग क: वाचन ( एकूण 50 गुण )

प्रश्न 1: दिलेली अक्षरे शब्दांत ओळखून त्या अक्षरांना गोल करा.






1 X 6 = 6

1) ल - लगदा गुलकंद पेन्सिल

2) ख - खटारा पाखरू पंख

प्रश्न 2: शब्द व चित्र यांच्या रेषा ओढून जोड्या लावा.

1 X 5 = 5

लाडू	
खेळणी	
गाय	
काकडी	
तबला	

प्रश्न 3: चित्रात दिसणाऱ्या चार वस्तूंच्या नावास गोल करा. 2X4 =8



( गवताचा भारा, झाड, पाऊस, पाणी, मुलगी, गाय )

प्रश्न 4 : वाक्यांशाच्या दोन योग्य भागांना रेषेने जोडा.

2 X 5 = 10

1) पाणी

क) कचराकुंडीतच टाका.

2) डोळे

ख) पैसे कधीही काढता येतात.

3) मतदान

ग) आपले जीवन आहे.

4) ATM मधून

घ) स्वच्छ पाण्याने धुतले पाहिजेत.

5) कचरा

ड) आपला अधिकार आहे.

प्रश्न 5:पोस्टर वाचा आणि दिलेल्या योग्य वाक्यासमोर (✓) आणि अयोग्य वाक्यासमोर (x) अशी खूण करा. 3 X 3 = 9

**स्वच्छतेच्या सवयी अंगीकारा...  
आपले गाव सुंदर व निर्मल करा...!**



शौचालयाचा नियमित वापर करा व लहान बाळाची विहाही शौचालयात टाका.

जेवणापूर्वी, शौचास जाऊन आल्यानंतर, बाळाची शी धुतल्यानंतर साबणाने हात घुवा.

पिण्याचे पाणी ओगराळ्याने किंवा तोटी असलेल्या भांड्यातून घ्या

घरातील केर कचरा कुंडीत टाका.

घरातील सांडपाणी परसबागेस अथवा शोषखड्यात सोडा.

**अधिक माहितीसाठी संपर्क :**  
जिल्हा पाणी व स्वच्छता मिशन, जि.प.नाशिक  
गट संसाधन केंद्र (पाणी व स्वच्छता) पंचायत समिती (सर्व)  
ग्रामपंचायत कार्यालय (सर्व)

- 1) स्वच्छतेच्या सवयी अंगीकारा. ( )
- 2) घरातील केर-कचरा रस्त्यावर टाकावा. ( )
- 3) शौचालयाचा नियमित वापर करा. ( )

प्रश्न 6: उतारा वाचा आणि दिलेल्या वाक्यासमोर योग्य (✓) किंवा अयोग्य (x) अशी खूण करा. 2 X 6 = 12

मला माझा व्यवसाय सुरु करण्यासाठी पैशांची गरज होती.मग कोणीतरी मला पंतप्रधान मुद्रा कर्ज योजनेबद्दल सांगितले. या योजनेंतर्गत पात्र लाभार्थ्यांना कर्ज मिळू शकते.कर्ज मिळणे अगदी सोपे आहे.त्यासाठी मुद्रा योजनेसाठी तयार करण्यात आलेल्या वेबसाईटवर जाऊन आवश्यक माहिती अर्जामध्ये भरावी लागते .नंतर त्या अर्जाची प्रिंट घेऊन आणि बँकेत जमा करावी लागते . कर्ज मंजूर झाल्यावर पैसे थेट बँक खात्यात जमा होतात .

- 1) व्यवसाय सुरु करण्यासाठी मुद्रा कर्ज उपलब्ध आहे. ( )
- 2) अर्ज बँकेत जमा करण्याची आवश्यकता नाही . ( )
- 3) एकदा कर्ज मंजूर झाल्यावर पैसे थेट बँक खात्यात जमा होतात. ( )
- 4) मुद्रा कर्जासाठी अर्ज भरावा लागेल.( )
- 5) कर्जाचा अर्ज बँकेत जमा करावा लागेल. ( )
- 6) मुद्रा कर्ज मिळणे खूप कठीण आहे. ( )

भाग ख: लेखन (एकूण 50 गुण)

प्रश्न 1 : दिलेल्या अक्षरांपासून एक-एक शब्द तयार करून लिहा.

2X3=6

1) ई - .....

2) स - .....

3) प- .....

प्रश्न 2: चित्र पाहून त्याचे नाव लिहा.

2X5=10



.....




.....



.....



.....



.....

प्रश्न 3: योग्य शब्द निवडून वाक्य पूर्ण करा .

2X4=8

( हेल्मेट            योग            लिंक            लसीकरण )

- 1) कोणत्याही अनोळखी व्यक्तीने पाठवलेल्या .....वर क्लिक करू नये.
- 2) ..... केल्याने आरोग्य चांगले राहते.
- 3) मुलांना वेळेवर ..... करावे.
- 4) गाडी चालवताना नेहमी ..... वापरा.

प्रश्न 4: दिलेल्या शब्दांपासून वाक्य तयार करा.

3X3=9

- 1) दिवाळी – .....
- 2) नुकसान – .....
- 3) विचित्र – .....

प्रश्न 5: आपल्या मित्राचे व वडिलांचे नाव लिहा .

1X2=2

- 1) मित्राचे नाव- .....
- 2) वडिलांचे नाव- .....

प्रश्न 6: चित्र पहा व चित्रासंबधी पाच वाक्ये लिहा.

3X5=15



क)-----

ख)-----

ग)-----


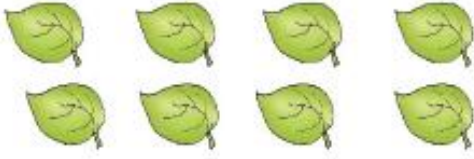




घ)-----

ड)-----



भाग ग : गणित (संख्याज्ञान) एकूण 50 गुण

प्रश्न 1 : चित्रे व संख्या यांच्या रेषा ओढून जोड्या जुळवा. 1X6=6

	1
	5
	2
	3
	4
	7

प्रश्न 2 : क्रम पूर्ण करा.

1X 5=5

45	_____	55	60
17	16	_____	14
11	_____	13	14
15	20	_____	30
_____	15	17	19

प्रश्न 3: वस्तूंच्या किमतीशी नोटा व नाण्यांच्या जोड्या लावा.

1X 3=3

 ₹ 200	
 ₹ 55	
 ₹ 20	

प्रश्न 4 : उदाहरणे सोडवा.

2X 4=8

क) 4 6

+ 1 2

.....

ख) 5 5

- 3 1

-----

ग) 1 5

X 4

-----

घ) 3 ) 2 4

प्रश्न 5: सोडवा

क) उमाच्या डब्यात 50 रु.च्या 9 नोटा व 20 रु.च्या 7 नोटा आहेत तर तिच्या डब्यात एकूण किती रुपये आहेत?

1X4=4

ख) पार्वतीला दररोज तीन गोळ्या खायच्या आहेत. तिच्याकडे 15 गोळ्याचे पाकीट असल्यास तिला या गोळ्या किती दिवस पुरतील?

1X4=4

प्रश्न 6 : रिकाम्या जागी योग्य शब्द लिहा.

2X4=8

क) 1000 ग्रॅम = -----किलोग्रॅम.

ख) 1 लीटर = ----- मिलीलीटर .

ग) 1 डझन आंबे = ----- आंबे.

घ) 500 मीटर = ----- किलोमीटर.

प्रश्न 7 : दिलेल्या घड्याळातील वेळ पाहून लिहा.

2X4=8



21:30

.....वाजून .....मिनिट

.....वाजून .....मिनिट

प्रश्न 8 : दिनदर्शिका पहा व प्रश्नाची उत्तरे लिहा.

1X4=4

नोव्हेंबर 2023					
रविवार		5	12	19	26
सोमवार		6	13	20	27
मंगळवार		7	14	21	28
बुधवार	1	8	15	22	29
गुरुवार	2	9	16	23	30
शुक्रवार	3	10	17	24	
शनिवार	4	11	18	25	

1. या महिन्यात एकूण किती गुरुवार आहेत? -----
2. या महिन्यात किती रविवार आले आहेत? -----
3. 5 नोव्हेंबरला कोणता वार आहे ? -----
4. या महिन्याच्या दुसऱ्या सोमवारी किती तारीख आहे? -----